

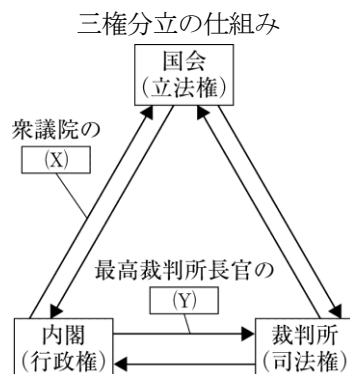
社会(45分)

受験番号	
	(算用数字)

1 社会科の授業で、公民分野におけるさまざまな仕組み図や統計をもとにした学習を行った。次は、彩奈さん、慎吾さん、美和さんの発表の一部である。①～③に答えなさい。

① 次の彩奈さんの発表について、(1)～(3)に答えなさい。

私は、三権分立の仕組みについて調べました。権力が集中すると (a) がおびやかされるおそれがあるため、立法権、行政権、司法権を異なる機関が担うようにしています。権力を分立させるこのような考え方は、18世紀にフランスの (b) が著書『法の精神』の中で唱え、フランス革命などに大きな影響を与えました。



資料1

- (1) (a) に当てはまる内容として最も適当なのは、ア～エのうちではどれですか。一つ答えなさい。
 ア 国民の自由 イ 政府の決定
 ウ 国民の義務 エ 政府の予算
- (2) (b) に当てはまる人物として最も適当なのは、ア～エのうちではどれですか。一つ答えなさい。
 ア リンカン(リンカーン) イ ロック ウ モンテスキュー エ ルソー
- (3) 資料1中の (X), (Y) にそれぞれ当てはまることばの組み合わせとして最も適当なのは、ア～エのうちではどれですか。一つ答えなさい。
 ア (X) : リコール, (Y) : 任命 イ (X) : 解散, (Y) : 任命
 ウ (X) : リコール, (Y) : 指名 エ (X) : 解散, (Y) : 指名

② 次の慎吾さんの発表について、(1)～(3)に答えなさい。

私は、(c)一票の格差について調べました。(d)国会議員を選出する選挙において、選挙区ごとに有権者数に大きな差があるため、有権者の持つ一票の価値に差が生じています。(e)裁判所は一票の格差が大きい状態に対して「違憲状態」とする判決を出しており、定数や選挙区割りの見直しがしばしば行われています。

参議院議員の一票の格差(2016年)

	定数	有権者数(人)
東京都	12	11157991
埼玉県	6	6069018
福井県	2	657443

(総務省資料から作成) 表

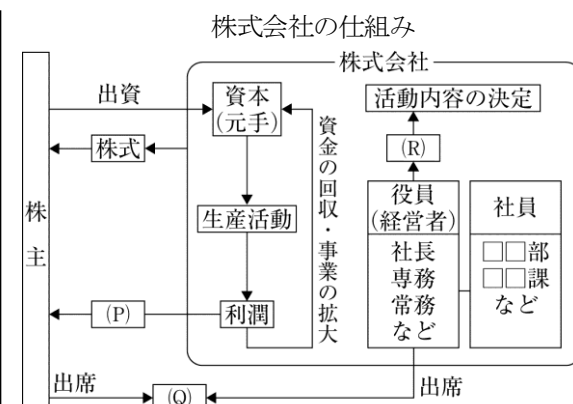
- (1) 下線部(c)に関して、右上の表から読み取れる内容として最も適当なのは、ア～エのうちではどれですか。一つ答えなさい。
 ア 表中の3都県のうち、有権者の一票の価値が最も低いのは東京都で、最も高いのは福井県である。
 イ 表中の3都県のうち、有権者の一票の価値が最も低いのは埼玉県で、最も高いのは福井県である。
 ウ 表中の3都県のうち、有権者の一票の価値が最も低いのは福井県で、最も高いのは東京都である。
 エ 表中の3都県のうち、有権者の一票の価値が最も低いのは福井県で、最も高いのは埼玉県である。

- (2) 下線部(d)に関して、衆議院議員と参議院議員の任期はそれぞれ何年か、書きなさい。
 (3) 下線部(e)に関して、慎吾さんは裁判所について次のようにまとめた。 () に当てはまる適当なことばを、5字で書きなさい。

裁判所は、国会が制定した法律や、内閣が行う命令や処分などが憲法に違反していないかどうかを判断する役割を担っている。その最終的な決定権を持つ最高裁判所は、 () ともいわれる。

③ 次の美和さんの発表について、(1)～(4)に答えなさい。

私は、企業について調べました。経済の仕組みの上では、企業は(f)家計から(g)労働力の提供を受け、賃金を支払って生産活動を行う存在です。生産活動は原則として(h)自由な競争のもとで行われています。企業は大きく公企業と私企業に分けられ、私企業の代表的な形として株式会社があります。株式会社は、株式を発行して出資をつることで多額の資金を集め、経営が行われています。



資料2

- (1) 下線部(f)の家計とは、家族や個人の消費生活である。電話勧誘や訪問販売などで商品を購入した場合、消費者の権利を守るために、クーリング・オフ制度が定められている。この制度はどのような制度か、「一定期間」ということばを用いて簡単に書きなさい。
 (2) 下線部(g)に関して、企業に対して弱い立場にある労働者には、労働基本権(労働三権)が保障されている。労働基本権(労働三権)についてまとめた次の表中の (Z) に当てはまることばを、カタカナ5字で書きなさい。

団結権	労働者が労働組合を結成する権利。
団体交渉権	労働組合が賃金や労働条件について使用者と交渉する権利。
団体行動権	労働組合が要求を実現するために (Z) を起こす権利。

- (3) 下線部(h)に関して、企業の独占や寡占を防ぎ、自由な競争をうながすために独占禁止法が制定されている。この独占禁止法を運用している機関の名称を書きなさい。
 (4) 資料2中の (P) ～ (R) にそれぞれ当てはまることばの組み合わせとして最も適当なのは、ア～エのうちではどれですか。一つ答えなさい。
 ア (P) : 利子, (Q) : 株主総会, (R) : 取締役会
 イ (P) : 配当, (Q) : 株主総会, (R) : 取締役会
 ウ (P) : 利子, (Q) : 取締役会, (R) : 株主総会
 エ (P) : 配当, (Q) : 取締役会, (R) : 株主総会

受験番号	
	(算用数字)

2 中学生の沙織さんは、文字の歴史について調べた。次は、そのとき調べた内容をもとにまとめたものの一部である。①～⑥に答えなさい。

(a)古代文明ではさまざまな文字が発明され、王の業績や占いの結果などを記録するために用いられた。日本は長い間文字を持たなかったが、(b)朝鮮半島などから一族で移り住んだ人々が漢字を持ち込み、朝廷での記録などに用いられるようになった。その後、(c)平安時代には漢字をもとにして仮名文字がつくられた。文字の読み書きができたのは主に貴族や僧などであったが、民衆の中にも読み書きができる人は存在し、鎌倉時代に起こった地頭の横暴を訴えた阿氏河荘の訴状や、室町時代に起こった(d)正長の土一揆の成果を刻んだ碑文などは民衆が残した貴重な歴史資料となっている。(e)江戸時代になると、庶民の子どもたちは寺子屋で読み・書きなどを学ぶようになり、(f)長編小説などが広く読まれるようになったほか、さまざまな学問も発達した。

① 下線部(a)に関して、古代文明のうち、メソポタミア文明に関連するものとして最も適当なのは、ア～カのうちではどれですか。当てはまるものをすべて答えなさい。

- ア 太陽暦 イ 太陰暦 ウ 万里の長城
エ ピラミッド オ 甲骨文字 カ くさび形文字

② 下線部(b)の人々を何というか。漢字三字で書きなさい。

③ 下線部(c)に関して、平安時代に起きた次のア～エのできごとを年代の古いものから順に並ぶように記号で答えなさい。

- ア 坂上田村麻呂が征夷大將軍に任命され、東北地方の蝦夷とよばれる人々を平定した。
イ 摂関政治の全盛期を築いた藤原道長の子の藤原頼通が、平等院鳳凰堂を建てた。
ウ 唐のおとろえや航海の危険などを理由に、200年以上続いた遣唐使が停止された。
エ 平治の乱に勝利した平清盛が、武士として初めて太政大臣となった。

④ 下線部(d)に関して、右の資料は、正長の土一揆の成果を記した碑文の内容である。このとき民衆が獲得した成果はどのようなことであったか、資料中に傍線部で示した語句の意味を明らかにして書きなさい。

正長元年ヨリ
サキ者、カンヘ四カン
カウニヲキメアル
ヘカラス

資料

⑤ 下線部(e)に関して、次の文は江戸時代に起きたあるできごとをまとめたものである。文中の(X)に当てはまる人物名を書きなさい。

1830年代半ばに発生した天保のききんは全国的に米不足を招き、商人による米の買い占めなどもあって米の価格が上昇した。生活に苦しむ人々による百姓一揆や打ちこわしが多発する中、大阪町奉行所の元役人で陽明学者であった(X)が、人々を救うために大阪で反乱を起こした。この反乱は一日で鎮圧されたが、幕府に大きな衝撃を与えた。

⑥ 下線部(f)に関して、江戸時代に書かれた長編小説とその作者の組み合わせとして最も適当なのは、ア～エのうちではどれですか。一つ答えなさい。

- ア 『南総里見八犬伝』－滝沢馬琴 イ 『東海道中膝栗毛』－与謝蕪村
ウ 『南総里見八犬伝』－十返舎一九 エ 『東海道中膝栗毛』－小林一茶

3 次の図1～図4は、それぞれ世界の一部地域を表した略地図である。①～⑤に答えなさい。なお、各図の縮尺は異なる。

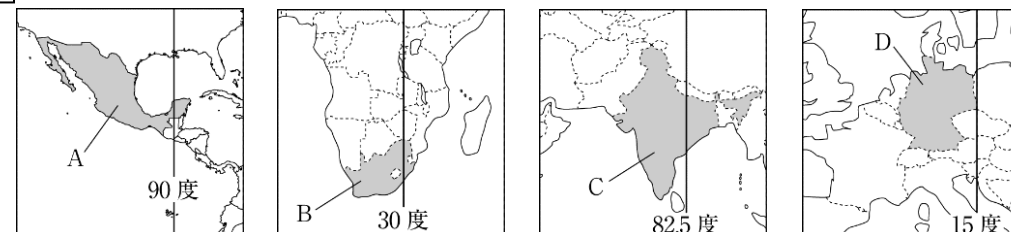


図1 図2 図3 図4

① 図1～図4中の経線は、それぞれA～Dの国の標準時子午線を示している。A～Dの国を新年を早く迎える順に並べたものとして最も適当なのは、ア～エのうちではどれですか。一つ答えなさい。

- ア B→A→C→D イ C→A→B→D
ウ B→D→A→C エ C→B→D→A

② Aの国では、日常会話でスペイン語が使用されている。その理由を書きなさい。

③ Bの国について述べた文として最も適当なのは、ア～エのうちではどれですか。一つ答えなさい。

- ア ASEANの加盟国で、1970年代以降の急速な工業化によって輸出額が増加した。
イ 農場や鉱山の開発に伴う大規模な伐採によって、森林の減少面積が世界で最も多い。
ウ 白豪主義を改めた1970年代以降、アジア州からの移民が急速に増加した。
エ 1990年代前半まで、アパルトヘイトとよばれる人種隔離政策が行われてきた。

④ Dの国でさかんな農業として最も適当なのは、ア～エのうちではどれですか。一つ答えなさい。

- ア 乾燥している夏にオリーブやぶどうなど、降水量の多い冬には小麦などを栽培している。
イ 水や草を求めて移動し、羊ややぎなどの家畜の飼育を行っている。
ウ 小麦などの穀物栽培と、豚や牛などの家畜の飼育を組み合わせた農業を行っている。
エ 一年を通して降水量が多いことから、米の二期作がさかんに行われている。

⑤ 右の表は、A～Dの国の各国の1人あたりの国民総所得の推移をまとめたものである。表から読み取れる内容として最も適当なのは、ア～エのうちではどれですか。一つ答えなさい。

	2000年	2010年	2015年
A	6157	8755	8680
B	3013	7116	5629
C	426	1326	1595
D	23652	43320	42594

(単位: ドル) (「世界国勢図会」2017/18年版から作成)

ア 1人あたりの国民総所得は、A～Dの国すべてで2000年から2015年にかけて増加し続けている。

- イ 2000年から2010年で、1人あたりの国民総所得が3倍以上になった国は2つある。
ウ 2015年に1人あたりの国民総所得が最も多い国は、最も少ない国の20倍以上である。
エ 2000年に1人あたりの国民総所得が2番目に多い国は、2015年には2番目に少ない。

受験番号	
	(算用数字)

4 中学生の直也さんは、家族旅行で訪れた瀬戸内海周辺について、次の図1～図3と表を作成した。①～⑥に答えなさい。

① 図1中のXは、新幹線を示している。中国地方の瀬戸内海側の地域を表す、に当てはまることばを書きなさい。

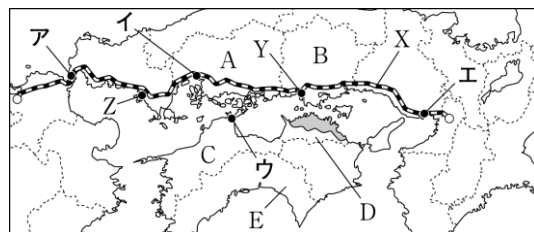


図1

② 図1中のYやZの都市は石油化学工業がさかんで、大規模な工場をパイプラインをつないだ工場群がつくられている。

このような工場群を何というか。解答用紙の書き出しに続けてカタカナで書きなさい。

③ 図2は、図1中にで示した平野で見られるため池である。Dの県の平野にため池が多い理由を、この平野の気候の特徴をふまえて書きなさい。



図2 時事通信フォト

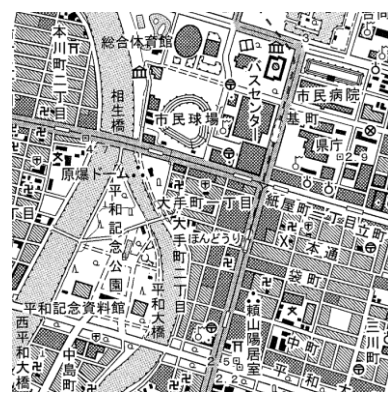
④ 図3は、ある都市の中心部の地形図である。(1)、(2)に答えなさい。

(1) 図3で示している都市として最も適当なのは、図1中のア～エのうちではどれですか。一つ答えなさい。

(2) 図3中に地図記号で表されている施設として最も適当なのは、ア～エのうちではどれですか。一つ答えなさい。

- ア 警察署 イ 消防署
- ウ 市役所 エ 高等学校

⑤ 直也さんは、図1中のA～Dの県について調べ、次の表を作成した。Cの県に当てはまるのは、表中のア～エのうちではどれですか。一つ答えなさい。



(国土地理院平成24年発行2万5千分の1地形図から作成) 図3

	人口 (千人)	農業産出額(億円)		海面養殖業 収穫量(t)	製造品出荷額 (億円)
		野菜	果実		
ア	976	236	57	24707	23875
イ	2844	182	142	120050	96043
ウ	1385	198	452	62269	41559
エ	1922	188	174	23138	82784

(人口は2015年, その他は2014年) (「データでみる県勢」2017年版から作成)

表

⑥ 図1中のEの県では、ピーマンやきゅうりなどの促成栽培がさかんである。促成栽培とはどのようなものか、「気候」「施設」ということばを用いて簡単に書きなさい。

5 中学生の優希さんは、近現代の文化について調べ、次の略年表を作成した。①～⑥に答えなさい。

年	文化に関するできごと
1872	福沢諭吉が『学問のすゝめ』を刊行する……………A ↕ ア
1904	与謝野晶子が「君死にたまふことなかれ」を発表する…B ↕ イ
1925	東京でラジオ放送が始まる……………C ↕ ウ
1953	NHKがテレビ放送を開始する……………D ↕ エ
1970	大阪で万国博覧会が開かれる……………E

① Aのできごとの年に起こったできごととして適当でないのは、ア～エのうちではどれですか。一つ答えなさい。

- ア 富岡製糸場が操業を開始した。 イ 不平等条約の改正を完全に達成した。
- ウ 学制を公布した。 エ 東京と横浜の間に鉄道が開通した。

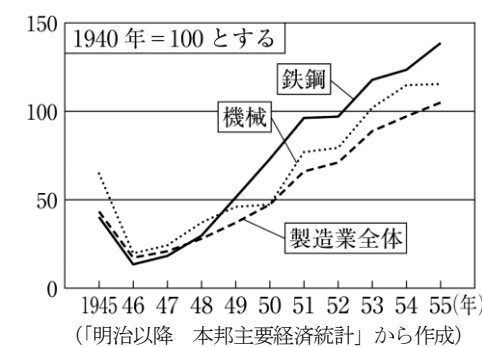
② Bのできごとに関して、「君死にたまふことなかれ」は、ある戦争に出征した弟を案じてよまれた詩である。この戦争を何というか、書きなさい。

③ Cのできごとの年に普通選挙法が制定された。このとき変更された選挙権の内容として最も適当なのは、ア～エのうちではどれですか。一つ答えなさい。

- ア 納税額による選挙権の制限がなくなった。 イ 貴族院議員の選挙が行われた。
- ウ 選挙権が与えられる年齢が20歳以上となった。 エ 女性に選挙権が与えられた。

④ Dのできごとの年に、朝鮮戦争の休戦協定が結ばれた。(1)、(2)に答えなさい。

(1) 右の図は、1945年から1955年にかけての工業生産指数の推移を示している。朝鮮戦争が起こっていた時期に、日本の工業生産が大きく伸びた理由を、「軍需物資」ということばを用いて書きなさい。



(2) 朝鮮戦争が続いていたころ、自衛隊の前身となる警察予備隊が結成された。自衛隊は日本の防衛を担うだけではなく、1992年以降は国際連合の平和維持活動に参加している。平和維持活動の略称を、アルファベット3字で書きなさい。

⑤ Eのできごとに関して、このころには、日本各地で公害病が大きな社会問題となった。公害病のうち、イタイイタイ病が発生した都道府県名を書きなさい。

⑥ 次のできごとの時期として最も適当なのは、略年表中のア～エのうちではどれですか。一つ答えなさい。

吉野作造が民本主義を唱えたほか、全国水平社の結成や第1回メーデーの開催など、社会運動がさかんにになった。

社 会 解 答 用 紙

1	①(1)	
	①(2)	
	①(3)	
	②(1)	
	②(2)	衆議院議員 年 参議院議員 年
	②(3)	
	③(1)	
	③(2)	
	③(3)	
	③(4)	

2	①	
	②	
	③	→ → →
	④	
	⑤	
	⑥	

3	①	
	②	
	③	
	④	
	⑤	

4	①	
	②	石油化学
	③	
	④(1)	
	④(2)	
	⑤	
⑥		

5	①	
	②	
	③	
	④(1)	
	④(2)	
	⑤	
⑥		

受験番号
算用数字

計
※100点満点 (配点非公表)