

社会(45分)

受験番号	
	(算用数字)

1 健一さんは、「千葉県の歴史」に着目して近世までの歴史的分野の学習をふり返り、次の表を作成しました。(1)~(6)に答えなさい。

表

時代区分	千葉県の歴史
古代	<ul style="list-style-type: none"> ・ (a) 時代の遺跡である貝塚が多くあり、当時の食生活が分かる。 ・ 律令制の成立とともに、(b)下総国・上総国・安房国に分割された。
中世	<ul style="list-style-type: none"> ・ 多くの武士が早くから源頼朝に従い、有力な(c)御家人として活躍した。 ・ 戦国時代には戦乱が繰り返され、やがて(d)北条氏が支配するようになった。
近世	<ul style="list-style-type: none"> ・ 江戸時代前期には、佐倉惣五郎を中心とする大規模な(e)百姓一揆が起きた。 ・ 九十九里浜でとれる(f)は肥料に加工され、農業の生産力が上昇した。

(1) (a)に当てはまる語として最も適当なのは、ア~エのうちではどれですか。一つ記号で答えなさい。

- ア 弥生 イ 縄文 ウ 旧石器 エ 古墳

(2) 下線部(b)のような国々に対して、朝廷は、国ごとの産物や伝説などを記録した書物をつくって献上することを命じました。この書物の名称を何とといいますか。

(3) 下線部(c)について、健一さんは、将軍(源頼朝)と御家人の関係について述べた文章を作成しました。(X)に当てはまる適当な内容を、「領地」という言葉を用いて書きなさい。

また、(Y)に当てはまる適当な語を書きなさい。

将軍は御家人の先祖代々の土地を保障し、手柄に応じて(X)一方、御家人は平時には京都や鎌倉の警備を行い、戦時には将軍のために命をかけて戦う義務を負った。このような関係を、「(Y)」と「奉公」という。

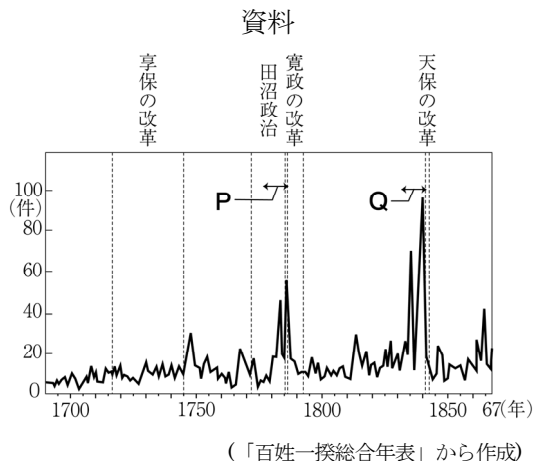
(4) 下線部(d)が減ばされた時期よりも前のできごととして最も適当なのは、次のア~エのうちではどれですか。一つ記号で答えなさい。

- ア 長篠の戦い イ 大阪の陣 ウ 島原・天草一揆 エ 文禄の役

(5) 下線部(e)について、健一さんは、百姓一揆の発生件数の変化を調べ、右の資料にまとめました。発生件数が急増した資料中のP、Qの時期は、ともに農民にとってどのような時期であったか、書きなさい。

(6) (f)に当てはまる語として最も適当なのは、ア~エのうちではどれですか。一つ記号で答えなさい。

- ア くじら イ にしん
ウ かつお エ いわし



2 次の図1は緯線と経線が直角に交わる世界地図です。図2は東京からの距離と方位が正しく描かれた地図です。(1)~(5)に答えなさい。

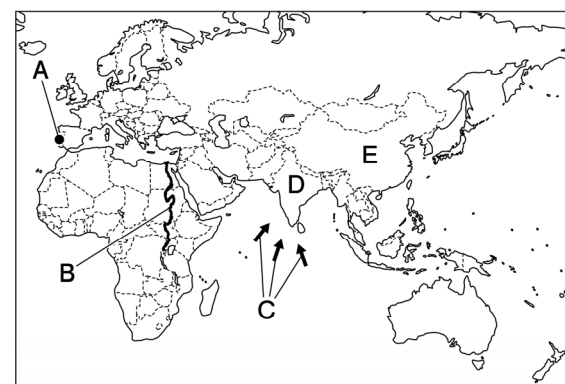


図1

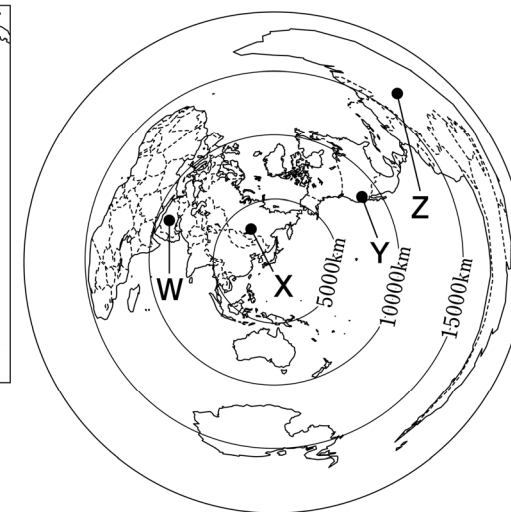


図2

(1) 東京から見て、図1中のAの都市までのおよその直線距離として最も適当なのは、ア~エのうちではどれですか。図2を参考にして、一つ記号で答えなさい。

- ア 6000km イ 9000km ウ 11000km エ 14000km

(2) 図1中のBの河川を何とといいますか。

(3) 図1中のCの矢印が示している風について述べた文として最も適当なのは、ア~エのうちではどれですか。一つ記号で答えなさい。

- ア 雨季の季節風(モンスーン)の風向き
イ 雨季の偏西風の風向き
ウ 乾季の季節風(モンスーン)の風向き
エ 乾季の偏西風の風向き

(4) 表は、図1中のDの国とEの国の人口の推移を比較したものです。次の文章は、表をもとに読み取れることについて述べたものです。()に当てはまる適当な内容を、Eの国の政策と関連づけて書きなさい。

表

年	Dの国	Eの国
1960	441	654
1980	689	975
2000	1060	1264
2020	1396	1425

単位：百万人
(「World Population Prospects」から作成)

2023年半ばに、Dの国がEの国を抜き、世界最大の人口の国になったことが報道された。その背景として、Eの国では1970年代末から2015年まで()一方、Dの国の人口が急増してきたことが挙げられる。

(5) 図3は、図2中のW~Zのいずれかの都市の平均気温と降水量を示しています。図3に当てはまる都市は、W~Zのうちではどれですか。一つ記号で答えなさい。

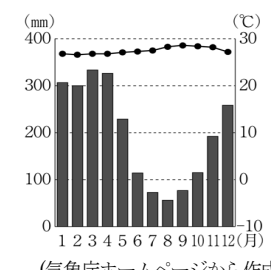


図3

(気象庁ホームページから作成)

受験番号	
	(算用数字)

3 くみこさんは、「近現代の我が国が結んだ条約」について調べ、表を作成しました。(1)～(6)に答えなさい。

表

条約	内容
日米修好通商条約	日米和親条約を結んで開国した後、(a)貿易を始めることを目的に結ばれた。日本にとって(b)不平等な内容が含まれ、改正には長い年月を要した。
下関条約	(c)日清戦争の講和条約として結ばれ、日本は清から多額の(d)賠償金や台湾、遼東半島などを獲得したが、遼東半島は三国干渉を受け返還した。
(e)条約	日本が東南アジアへの進出を進めるにあたり、北方からの攻撃を防ぐ目的で結ばれたが、太平洋戦争末期に相手国から一方的に破棄された。
日中平和友好条約	(f)日中共同声明による国交の正常化後、平和友好関係を進め、正式な国交を樹立する目的で結ばれた。

- (1) 下線部(a)について、幕末における貿易で日本の最大の輸出品となった品目として最も適当なのは、ア～エのうちではどれですか。一つ記号で答えなさい。
 ア 銅 イ 生糸 ウ 硫黄 エ 茶
- (2) 下線部(b)について、このとき日本にとって不平等であった内容のうち、貿易に関する不平等な内容はどのようなことであったか、書きなさい。
- (3) 下線部(c)のきっかけとなった、朝鮮半島で起こったできごとは、ア～エのうちではどれですか。一つ記号で答えなさい。
 ア 甲午農民戦争 イ 江華島事件 ウ 太平天国の乱 エ 五・四運動
- (4) くみこさんは、下線部(d)について、次の文を作成しました。X, Y に当てはまる内容の組み合わせとして最も適当なのは、あとのア～エのうちではどれですか。一つ記号で答えなさい。
- 賠償金の多くは X に用いられたが、その一部を使って Y が建設され、日本の重工業の基礎が築かれました。
- ア X : 北海道の開発 Y : 富岡製糸場
 イ X : 北海道の開発 Y : 八幡製鉄所
 ウ X : 軍備の増強 Y : 富岡製糸場
 エ X : 軍備の増強 Y : 八幡製鉄所
- (5) (e) に当てはまる語を 4 字で書きなさい。
- (6) 下線部(f)よりも後に起こったできごとに関するア～エを、年代の古いものから順に並ぶように記号で答えなさい。
 ア アメリカ同時多発テロ イ ベルリンの壁の崩壊
 ウ ソビエト連邦の解体 エ イラク戦争

4 なおやさんは、九州地方に関心を持ち、調べました。図 1 は、なおやさんが作成した略地図です。(1)～(5)に答えなさい。

- (1) 県名と異なっている県庁所在地名は、図 1 中のア～エのうちではどれですか。一つ記号で答えなさい。
- (2) 図 1 中の A の海を何といいますか。
- (3) 図 1 中の B の県の数値が九州地方で最も多い項目として適当でないものは、ア～エのうちではどれですか。一つ記号で答えなさい。
 ア 小売業の事業所数
 イ 海面漁業漁獲量
 ウ 製造品出荷額
 エ 鉄道の乗降客数
- (4) なおやさんは、主な県の発電について調べ、次の表にまとめました。表中のア～エには、図 1 中の C の県と、兵庫県、福井県、富山県のいずれかが当てはまります。C の県に当てはまるものは、表中のア～エのうちではどれですか。一つ記号で答えなさい。

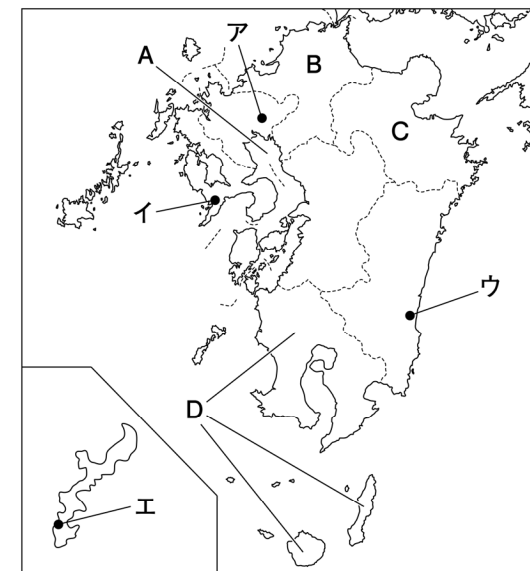


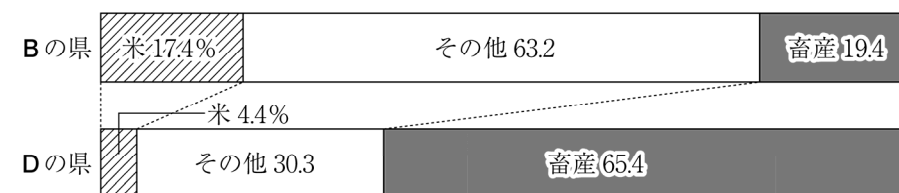
図 1

表

	総発電量 (百万 kWh)	水力	火力	原子力	地熱
ア	38447	1042	36601	—	—
イ	15705	9300	6366	—	—
ウ	44593	1713	9248	33553	—
エ	18027	683	15796	—	823

(注)2021 年度。総発電量にはその他を含む。 (2023 年版「データでみる県勢」から作成)

(5) 図 2 は、図 1 中の B の県と D の県の農業産出額の内訳を示しています。B の県と比べてとき、D の県は米の割合が低くなっています。その理由を、D の県に広がる地質の特色にふれて書きなさい。



(注)2020 年。四捨五入の関係で合計が 100%にならないことがある。 (2023 年版「データでみる県勢」から作成)

図 2

受験番号	
	(算用数字)

5 れいなさんのクラスでは、政治や経済について興味を持った制度や法律について、発表するためのスライドを作成しています。(1)~(8)に答えなさい。

スライド 1

情報公開制度

国民に開かれた(a)行政の実現を図るために、国や地方公共団体が持つ情報の開示を求めることができる制度です。日本国憲法の施行時には考慮されていなかった、(b)新しい人権の一つである「知る権利」を保障するものです。

スライド 2

公職選挙法

(c)国会議員や地方公共団体の首長、地方議会の議員に関して、定数や選挙の方法について定めた法律です。とくに、公正な選挙が行われるように、(d)選挙運動のやり方や投票の方法については細かな規制が定められています。

スライド 3

労働基準法

(e)企業などの使用者による不当な搾取を防ぎ、労働者に適用される労働条件の最低ラインを定めた法律です。使用者と労働者は対等の立場とし、労働条件や(f)賃金、休暇、時間外労働などの最低限のルールを定めています。

スライド 4

独占禁止法

少数の企業による市場の寡占を防ぎ、健全な(g)市場経済を守ることを目的とし、(h)が運用にあたっています。同業者を市場から排除するような行為や、公共事業などの入札における談合行為なども禁止しています。

- (1) 下線部(a)に関して、行政権を担う内閣と、他の権力との関係について述べた文として適当でないものは、ア~エのうちではどれですか。一つ記号で答えなさい。
- ア 裁判所に対しては、最高裁判所の長官を任命する権限を持っている。
 - イ 国会に対しては、国会召集の決定や衆議院の解散の決定をする権限を持っている。
 - ウ 裁判所からは、命令や規則、処分の違憲・違法審査をする権利を行使される。
 - エ 国会からは、内閣総理大臣の指名や、内閣不信任決議を行う権限を行使される。

(2) れいなさんは、下線部(b)の一つである環境権について、次の文章を作成しました。□に当てはまる語を、漢字 3 字で書きなさい。

第二次世界大戦後に各地で公害が深刻な問題になったことを受け、良好な環境で暮らす権利として環境権が唱えられるようになりました。その後、後から建てられる建物の陰に住居が隠れないような配慮を求める、□なども加えられるようになっていきます。

(3) れいなさんは、下線部(c)について、次の文を作成しました。□P, □Q に当てはまる内容の組み合わせとして最も適当なのは、ア~エのうちではどれですか。一つ記号で答えなさい。

衆議院は参議院よりも議員定数が□P, 被選挙権が与えられる年齢は□Q。

- ア □P : 多く □Q : 高い イ □P : 多く □Q : 低い
 - ウ □P : 少なく □Q : 高い エ □P : 少なく □Q : 低い
- (4) 下線部(d)に関して述べた、次の X と Y の文について、内容の正誤を表したのものとして最も適当なのは、ア~エのうちではどれですか。一つ記号で答えなさい。
- X インターネットを活用した選挙運動は、一定の範囲内で認められている。
 - Y 電子投票を選択することができ、採用する地方公共団体が増えてきている。
- ア X, Y のどちらも正しい。 イ X のみ正しい。
 - ウ Y のみ正しい。 エ X, Y のどちらも誤っている。

(5) 下線部(e)について、企業のなかで多くを占めるのは株式会社です。株式会社の株主には大きく二つの権利があります。一つは利潤の一部を配当として受け取る権利です。もう一つの権利を「議決」という言葉を用いて書きなさい。

(6) 下線部(f)に関して、資料は、賃金などによって家計が得た収入の使い道を、模式的に示したものです。資料中の Z に当たる部分を何とといいますか。

資料		
非消費支出	可処分所得	
	消費支出 (食料費・教育費など)	Z

- (7) 下線部(g)に関して、多くの商品は需要量と供給量のバランスによって価格が決まっていますが、水道料金やタクシー運賃などの公共料金はどのようにして価格が決まりますか、書きなさい。
- (8) □(h) にあてはまる機関名として最も適当なのは、ア~エのうちではどれですか。一つ記号で答えなさい。
- ア 金融庁 イ 国家公安委員会 ウ 公正取引委員会 エ 消費者庁