

社 会 (45 分)

受験番号	
	(算用数字)

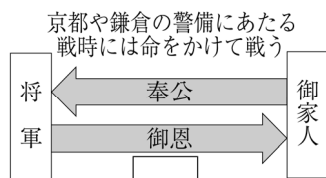
1 太郎さんは、我が国の近世までの各時代の土地をめぐる状況について調べ、表を作成しました。(1)～(5)に答えなさい。

表

時代区分	土地をめぐる状況	当時の状況
古代	班田収授法	戸籍の整備とともに始まり、農民は口分田を与えられ、(a)税を納めた。
	領主と地頭の二重支配	(b)鎌倉幕府が荘園や公領ごとに地頭を置くようになった。
中世	惣の発達	(c)農村の自治組織として惣がつくられ、山林や用水の管理に掟を定めた。
	太閤検地	(d)豊臣秀吉が全国的に行い、石高を確定するとともに荘園の権利を否定した。
近世	新田開発	年貢の収入を増やすため、幕府や(e)藩が新田開発を積極的に進めた。

- (1) 下線部(a)に関して、口分田で収穫された稲の約 3%を納めた税の名称を何といいますか。
- (2) 下線部(b)に関して、資料は、鎌倉幕府の将軍と御家人との関係を示しています。資料中の [] に当てはまる内容を、「領地」ということばを用いて書きなさい。

資料

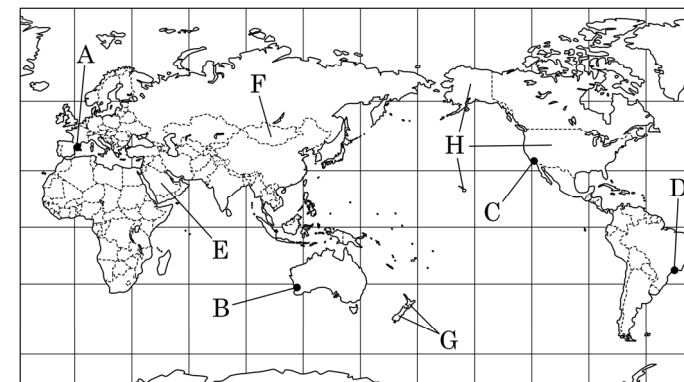


- (3) 下線部(c)に関して、農村で豊作を祈る祭りの際に演じられた田楽とよばれる芸能が源流の一つになっている、能(能楽)を大成した人物として最も適当なのは、ア～エのうちではどれですか。一つ記号で答えなさい。
- ア 世阿弥 イ 運慶 ウ 出雲の阿国 エ 鴨長明
- (4) 下線部(d)に関して述べた、次の文の [X]、[Y] に当てはまることばの組み合わせとして最も適当なのは、ア～エのうちではどれですか。一つ記号で答えなさい。

織田信長の家臣であった豊臣秀吉は、織田信長が [X] によって本能寺で自害に追い込まれた後に台頭し、1590 年に関東地方の [Y] 氏を滅ぼし、東北地方の大名も従わせたことで天下統一を果たした。

- ア [X] : 石田三成 [Y] : 北条 イ [X] : 石田三成 [Y] : 毛利
- ウ [X] : 明智光秀 [Y] : 北条 エ [X] : 明智光秀 [Y] : 毛利
- (5) 下線部(e)に関して、①、②に答えなさい。
- ① 江戸時代に各藩を治めた大名のうち、親藩とはどのような大名のことか、書きなさい。
- ② 江戸時代の藩について述べた文として適当でないのは、ア～エのうちではどれですか。一つ記号で答えなさい。
- ア 各藩は大阪などに蔵屋敷を設け、年貢米を運び込んで売りさばいた。
- イ 各藩の大名の妻や子は、江戸で暮らすことを義務づけられた。
- ウ 薩摩藩は朝鮮との外交を担い、松前藩はアイヌとの交易を行った。
- エ 江戸時代後半には、藩の財政を立て直すために特産物の専売などを行うようになった。

2 次の図は、緯線と経線が直角に交わる世界地図であり、緯線は赤道から、経線は本初子午線からいずれも 30 度間隔です。(1)～(5)に答えなさい。



図

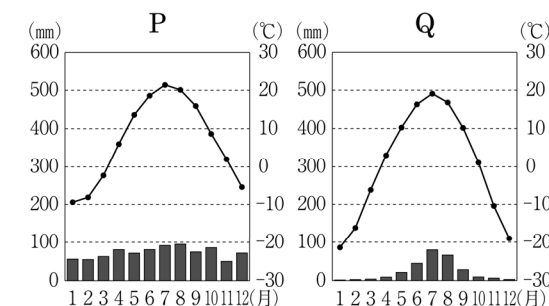
- (1) 図中の A～D の都市のうち、時差が最も大きくなる 2 都市の組み合わせとして最も適当なのは、次のア～エのうちではどれですか。一つ記号で答えなさい。
- ア A と C イ A と D
- ウ B と C エ B と D
- (2) 図中の E 国に関して述べた次の I と II の文について、内容の正誤を表したのものとして最も適当なのは、あとのア～エのうちではどれですか。一つ記号で答えなさい。
- I 世界有数の原油(石油)の産出国であり、OPEC(石油輸出国機構)に加盟している。
- II 植民地時代に開発されたプランテーションでのコーヒー豆の栽培がさかんである。
- ア I、II のどちらも正しい。 イ I のみ正しい。
- ウ II のみ正しい。 エ I、II のどちらも誤っている。
- (3) 図中の F 国南部の自然環境に関して述べた【説明文】と雨温図を示した【資料】の組み合わせとして正しいのは、ア～エのうちではどれですか。一つ記号で答えなさい。

【説明文】

- I 乾燥帯に属し、丈の短い草原が広がっている。
- II 寒帯に属し、夏の間だけ氷がとけてこけ類が生える。

- ア I-P イ I-Q
- ウ II-P エ II-Q

【資料】



- (4) 図中の G 国で最も輸出額が多い品目として最も適当なのは、ア～エのうちではどれですか。一つ記号で答えなさい。
- ア 大豆 イ 機械類
- ウ 自動車 エ 酪農品

表

	農林水産業就業人口(万人)	農地面積(万 ha)
H 国	267	41241
日本	207	464
中国	16930	52041

(「世界国勢図会」から作成)

- (5) 表は、図中の H 国の農林水産業就業人口と農地面積を、日本や中国と比較して示しています。表から読み取れる H 国の特色を、「一人当たりの農地面積」ということばを用いて、日本や中国と比べて書きなさい。

受験番号	
	(算用数字)

3 良太さんは、我が国の近代の特色を考察するため、政治に関する我が国のできごとについて、表1にまとめました。(1)～(7)に答えなさい。

表1

年代	政治に関する我が国のできごと
1850	・(a)安政の大獄が行われた。
1880	・(b)学制が公布された。
1880	・(c)大日本帝国憲法が公布された。
1920	・(d)米騒動が起こった。
1920	・(e)普通選挙法が制定された。
1950	・(f)ポツダム宣言を受諾した。
1950	・(g)非核三原則が提唱された。

- (1) 下線部(a)に関して、安政の大獄を行った人物として最も適当なのは、ア～エのうちではどれですか。一つ記号で答えなさい。
 ア 井伊直弼 イ 本居宣長
 ウ 水野忠邦 エ 木戸孝允
- (2) 下線部(b)に関して、資料は学制の内容の一部を示しています。学制で国民に義務づけられたことを、「小学校」ということばを用いて、年齢にふれて書きなさい。

資料

今後一般の人民は、(華族、士族、農民、工人、商人および婦女子を問わず)必ず村に不学の家がなく、家に不学の人がいないことを目標にしなければならない。

- (3) 下線部(c)に関して述べた次のⅠとⅡの文について、内容の正誤の組み合わせとして最も適当なのは、あとのア～エのうちではどれですか。一つ記号で答えなさい。
 Ⅰ 大日本帝国憲法の草案作成に先立ち、大久保利通がヨーロッパに渡って憲法を学んだ。
 Ⅱ 大日本帝国憲法では、言論や集会などの自由は法律の範囲内で認められた。
 ア Ⅰ、Ⅱのどちらも正しい。 イ Ⅰのみ正しい。
 ウ Ⅱのみ正しい。 エ Ⅰ、Ⅱのどちらも誤っている。

(4) 下線部(d)に関して、米騒動は、日本軍の[]出兵を見越した商人の米の買い占めによって、米価が急上昇したことで起こりました。[]に当てはまる地域はどこですか。

表2

年代	おもなできごと
1925	普通選挙法が制定される。……
1936	二・二六事件が起こる。……
1945	女性に選挙権が与えられる。……

- (5) 下線部(e)に関して、普通選挙法の制定から女性に選挙権が与えられるまでのおもなできごとを、表2にまとめました。表2中のAとBの期間に当てはまるできごととして最も適当なのは、ア～エのうちではどれですか。それぞれ一つずつ記号で答えなさい。
 ア 関東大震災が起こった。
 イ 日独伊三国同盟が結ばれた。
 ウ 世界恐慌が起こった。
 エ 日英同盟が結ばれた。

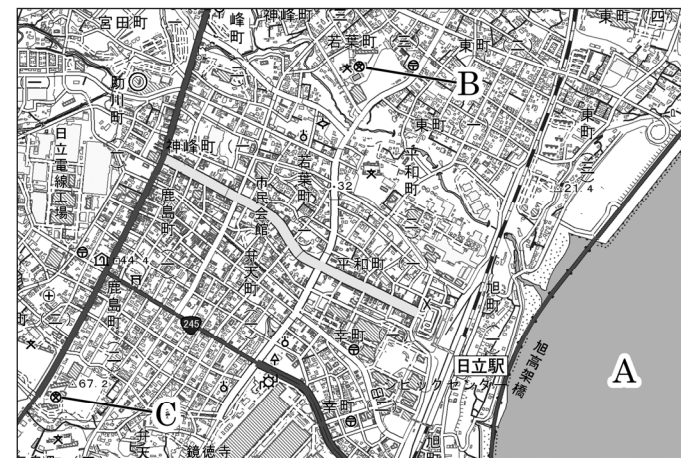
(6) 下線部(f)に関して述べた、次の文中の[]に当てはまる国名として最も適当なのは、あとのア～エのうちではどれですか。一つ記号で答えなさい。

ポツダム会談はアメリカ、イギリス、ソ連が参加して行われたが、ソ連は日本と中立条約を結んでいたため、ポツダム宣言はアメリカ、イギリス、[]の名で出された。

- ア オランダ イ フランス ウ タイ エ 中華民国

(7) 下線部(g)を提唱したときの内閣総理大臣はだれですか。

4 茨城県日立市に住む敬子さんは、地域の土地利用について学習しています。敬子さんは、図1の茨城県日立市の一部を示した2万5千分の1地形図、および図2の関東地方の地図を収集しました。(1)～(3)に答えなさい。



(国土地理院令和7年発行2万5千分の1地形図「日立」から作成。一部改変)
 図1

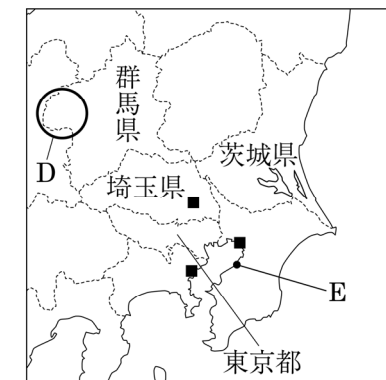


図2

- (1) 図1のAの海を流れる暖流を何といいますか。
 (2) 図1のBとCの高等学校の間の、実際の直線距離として最も適当なのは、次のア～エのうちではどれですか。一つ記号で答えなさい。ただし、地点Bと地点Cの間は図1上で6cmです。
 ア 750m イ 1500m ウ 2500m エ 3750m

(3) 図2の関東地方について、①～④に答えなさい。

- ① 図2に■で示した場所には、新都心とよばれる地区が整備されてきました。新都心が整備された理由を、「集中」ということばを用いて書きなさい。
 ② 図2のDの地域でさかんな農業として最も適当なのは、次のア～エのうちではどれですか。一つ記号で答えなさい。
 ア 近郊農業によるねぎの生産 イ 促成栽培によるきゅうりの生産
 ウ 電照栽培による菊の生産 エ 抑制栽培によるキャベツの生産
 ③ 図2のEの都市でさかんな工業として最も適当なのは、次のア～エのうちではどれですか。一つ記号で答えなさい。

- ア 自動車工業 イ 出版・印刷業 ウ 石油化学工業 エ 精密機械工業

④ 表のア～エは、図2の茨城県、群馬県、埼玉県、東京都の夜間人口を100としたときの昼間人口の比率を示しています。東京都に当てはまるものとして最も適当なのは、表のア～エのうちではどれですか。一つ記号で答えなさい。

	夜間人口を100としたときの昼間人口の比率
ア	119.2
イ	100.0
ウ	97.6
エ	87.6

(2020年)「データでみる県勢」から作成

受験番号	
	(算用数字)

5 中学生の洋子さんは、「政治・経済に関する身近な体験」というテーマの探究的な学習を行いました。次は、洋子さんの班での話し合いの様子です。(1)～(7)に答えなさい。

班での話し合い

洋子：先日、母と一緒に市役所に行きました。そのとき、市役所の中に(a)市議会の議場があることを知りました。また、市役所の近くには(b)裁判所があるのを見かけました。これらの施設には、いずれも入口の階段の横にスロープが設けられていて、(c)に配慮されていると思いました。

健太：隣町には、(d)国会議員の事務所があります。(e)選挙のときには、事務所の前で出陣式をやっているのを見かけました。

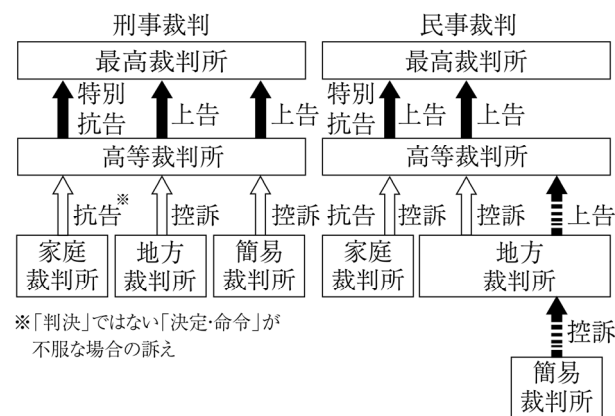
美里：父が(f)銀行に行って、住宅ローンの借り換えの相談をしていました。融資というと身近でないイメージがありましたが、身近な(g)家計にも関わることだと実感しました。

- (1) 下線部(a)について述べた次の I と II の文について、内容の正誤を表したのものとして最も適当なのは、ア～エのうちではどれですか。一つ記号で答えなさい。
- I 市議会は市長に対して解職の決議を出すことができる一方、市長は市議会に対して議決を拒否することができる。
- II 住民が直接請求権を行使して市議会の解散を請求する場合、有権者の 50 分の 1 以上の署名を集め、市長に署名を提出する。

- ア I、II のどちらも正しい。 イ I のみ正しい。
- ウ II のみ正しい。 エ I、II のどちらも誤っている。

- (2) 下線部(b)に関して、裁判所で行われる裁判は、資料 1 のように一つのことに 3 回まで判決を受ける、三審制が採用されています。その理由を書きなさい。

資料 1



- (3) (c) に当てはまることばとして最も適当なのは、ア～エのうちではどれですか。一つ記号で答えなさい。
- ア インフォームド・コンセント
- イ クーリング・オフ
- ウ バリアフリー
- エ イノベーション

- (4) 下線部(d)に関して、①、②に答えなさい。
- ① 国会の仕事として最も適当なのは、ア～エのうちではどれですか。一つ記号で答えなさい。
- ア 天皇の国事行為に助言と承認を与える。 イ 国政調査権を行使する。
- ウ 最高裁判所長官を指名する。 エ 条約を締結する。
- ② 衆議院の解散中、急に国会を開く必要が生じた場合は、参議院で()が開かれます。 () に当てはまることばを書きなさい。
- (5) 下線部(e)に関して、選挙の四つの原則について述べた文として最も適当なのは、ア～エの

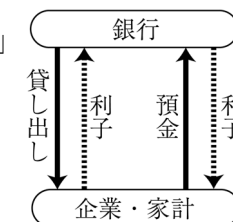
- うちではどれですか。一つ記号で答えなさい。
- ア 普通選挙—性別、年齢、国籍にかかわらず投票できる原則。
- イ 秘密選挙—投票をしなくても罰を受けることがない原則。
- ウ 直接選挙—投票所に自ら出向いて投票する原則。
- エ 平等選挙—有権者一人につき一票投票できる原則。

- (6) 下線部(f)に関して、①、②に答えなさい。

- ① 資料 2 は、銀行と企業・家計の関係を示しています。資料 2 について述べた次の文の () に当てはまる適当な内容を、「利子率」ということばを用いて書きなさい。

銀行は、企業や家計から預金を集めて、資金を必要とする企業や家計に貸し出しを行っています。このとき () ことで、その差額を銀行の利潤としています。

資料 2



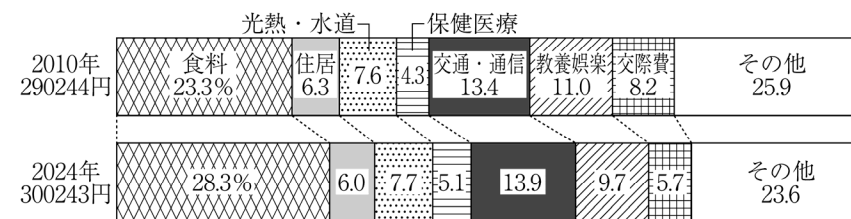
- ② 銀行は外国の貨幣との両替も行っています。外国の貨幣との為替レート(為替相場)について述べた次の文の X、Y に当てはまることばの組み合わせとして最も適当なのは、ア～エのうちではどれですか。一つ記号で答えなさい。

1 ドル=120 円から 1 ドル=150 円になることを X といいます。X のときには、日本の Y にとって有利になります。

- ア X : 円安 Y : 輸出 イ X : 円安 Y : 輸入
- ウ X : 円高 Y : 輸出 エ X : 円高 Y : 輸入

- (7) 下線部(g)に関して、資料 3 は家計の消費支出の内訳を示しています。資料 3 から読み取れることとして適当なのは、ア～オのうちではどれですか。二つ記号で答えなさい。

資料 3



(「日本国勢協会」から作成)

- ア 2010 年と比べて、2024 年の食料の支出額は 10000 円以上増えている。
- イ 2010 年と比べて、2024 年の住居の支出額はわずかに増えている。
- ウ 7 項目のうち、2010 年よりも 2024 年の割合が増えている項目は二つである。
- エ 2024 年における交通・通信の支出額は、50000 円以上となっている。
- オ 7 項目のうち、2010 年から 2024 年にかけて割合が最も減っているのは交際費である。