

社会(45分)

受験番号	
	(算用数字)

1 たけしさんは、我が国の近世までに出された法令とその目的について調べ、次の表を作成しました。(1)~(6)に答えなさい。

表

時代区分	出された法令	法令が出された目的
古代	大宝律令	(a)天皇を頂点とする政治体制を整えようとした。
	(b)墾田永年私財法	不足する(c)口分田を補いつつ、租の収入を増やそうとした。
中世	御成敗式目	X の北条泰時が、政治の判断基準を示そうとした。
近世	楽市令	織田信長が、Y の城下町の経済を活発にしようとした。
	武家諸法度	(d)江戸幕府が大名を統制しようとした。

(1) X、Y に当てはまることばの組み合わせとして最も適当なのは、ア~エのうちではどれですか。一つ記号で答えなさい。

- ア X : 老中 Y : 安土城      イ X : 老中 Y : 大阪城  
 ウ X : 執権 Y : 安土城      エ X : 執権 Y : 大阪城

(2) 下線部(a)について、壬申の乱に勝利し、即位した天皇はだれですか。漢字で書きなさい。

(3) 下線部(b)に関して、墾田永年私財法が出されたころの文化について述べた文として最も適当なのは、ア~エのうちではどれですか。一つ記号で答えなさい。

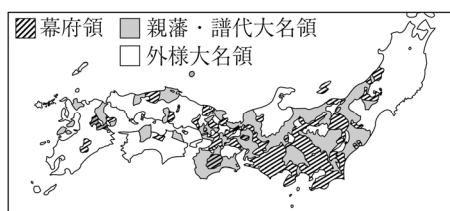
- ア 運慶らが金剛力士像を制作した。      イ 東大寺の大仏が完成した。  
 ウ 最澄が天台宗を広めた。              エ 平等院鳳凰堂が建立された。

(4) 下線部(c)に関して、たけしさんは先生から「口分田とは何ですか。」という質問を受け、次の文にまとめました。P に当てはまる適当な内容を、年齢にふれて書きなさい。

口分田とは、戸籍に登録された P に与えられた土地のことで、その人が死ぬと国に返すことになっていた。

(5) 下線部(d)に関して、次は、江戸時代の大名に関する資料を収集したたけしさんが、幕府の大名に対する統制策をまとめた文章です。Q に当てはまる適当な内容を書きなさい。

資料 江戸時代におけるおもな大名の配置



江戸幕府は、全国に大名を配置し、各地の支配を任せた。関ヶ原の戦いのころから徳川氏に従うようになった大名は、Q に配置された。

(6) たけしさんは、中世の政治について調べ、次の文にまとめました。R に当てはまる内容として最も適当なのは、ア~エのうちではどれですか。一つ記号で答えなさい。

応仁の乱以後台頭した戦国大名は、R ことで、領地内の武士や民衆を統制した。

- ア 極端な動物愛護の政策を実施する      イ 参勤交代を制度化する  
 ウ 目安箱を設置する                          エ 分国法を定める

2 次の図1は、中心の東京からの距離と方位が正しく描かれた世界地図です。また、図2は、緯線と経線が直角に交わる世界地図であり、経線は本初子午線から30度間隔です。(1)~(5)に答えなさい。



図1

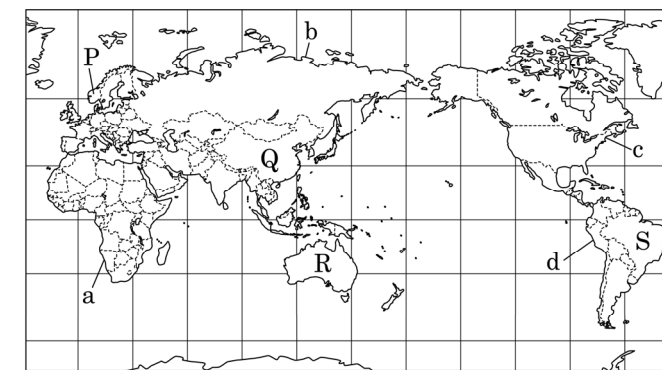


図2

(1) 図1と図2から読み取れる内容として最も適当なのは、ア~エのうちではどれですか。一つ記号で答えなさい。

- ア 図1中のブエノスアイレスは、東京からみて北西に位置する。  
 イ 図1中のブエノスアイレスは、図2中のaの大陸に位置する。  
 ウ 図1中の東京から真南に直進すると、3番目に通過する大陸は図2中のdの大陸である。  
 エ 図1中の東京から見て、地球の中心を通り反対側にある地点に近い大陸は、図2中のcの大陸である。

(2) 図2中のP国の西岸でみられる、氷河によって削られた谷に海水が入りこんで形成された地形を何といいますか。カタカナで書きなさい。

(3) 右の表は、図2中のQ国とR国の人口と国民総所得(GNI)を示しています。一人当たりの国民総所得と時差に関して述べた次のIとIIの文について、内容の正誤を表したものと最も適当なのは、ア~エのうちではどれですか。一つ記号で答えなさい。

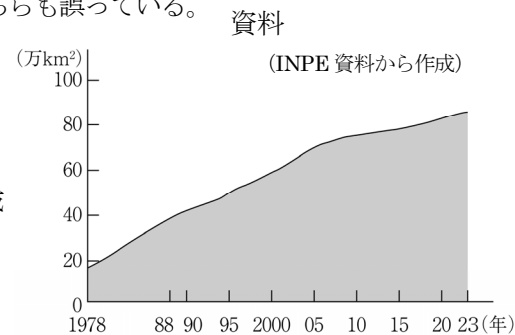
	人口 (千人)	国民総所得 (億ドル)
Q国	1,422,585	176,453
R国	26,451	17,152

(注) 統計年次は2023年。  
 (「世界国勢図会 2025/26」から作成)

- I 一人当たりの国民総所得は、Q国よりR国が多い。  
 II Q国の首都は、R国の首都より時刻が進んでいる。  
 ア I、IIのどちらも正しい。      イ Iのみ正しい。  
 ウ IIのみ正しい。                  エ I、IIのどちらも誤っている。

(4) 図2中のR国でかつて採用されていた、白人以外の移民を厳しく制限する政策を何といいますか。漢字四字で書きなさい。

(5) 右の資料は、図2中のS国のアマゾン川流域の森林伐採面積の推移です。資料から読み取れるこの地域の課題を、「熱帯林」ということばを用いて書きなさい。



受験番号	(算用数字)
------	--------

3 やすおさんは、我が国の近代の特色を考察するため、政治の側面から、国民の政治参加に関する我が国のできごとと、できごとによる影響や関連について、表にまとめました。(1)～(7)に答えなさい。

年代	国民の政治参加に関する我が国のできごと	できごとによる影響や関連
1881	・板垣退助が <b>X</b> を結成した。	・自由民権運動が活発になった。
1889	・(a)大日本帝国憲法が発布された。	・第1回帝国議会在開催された。
1918	・(b)原敬内閣が成立した。	・(c)大正デモクラシーが広まった。
1925	・普通選挙法が制定された。	・(d)共産主義を取りしめる <b>Y</b> が制定された。
1945	・(e)女性参政権が認められた。	・戦後改革が進められた。

(1) **X**、**Y** に当てはまることばの組み合わせとして最も適当なのは、ア～エのうちではどれですか。一つ記号で答えなさい。

- |                    |                   |
|--------------------|-------------------|
| ア <b>X</b> : 自由党   | <b>Y</b> : 治安維持法  |
| イ <b>X</b> : 自由党   | <b>Y</b> : 国家総動員法 |
| ウ <b>X</b> : 立憲改進黨 | <b>Y</b> : 治安維持法  |
| エ <b>X</b> : 立憲改進黨 | <b>Y</b> : 国家総動員法 |

(2) やすおさんは、下線部(a)の国民の権利について、次の文にまとめました。**P** に当てはまる適当な内容を、「法律」と「権利」という二つのことばを用いて書きなさい。

大日本帝国憲法では、国民は天皇の「臣民」と位置づけられ、**P** が認められた。

(3) 下線部(b)に関して述べた次の I と II の文について、内容の正誤を表したのものとして最も適当なのは、ア～エのうちではどれですか。一つ記号で答えなさい。

- I 寺内正毅内閣が米騒動によって退陣した後に成立した。  
 II ほとんどの大臣が憲政会の党员で構成された。

- ア I、IIのどちらも正しい。 イ Iのみ正しい。  
 ウ IIのみ正しい。 エ I、IIのどちらも誤っている。

(4) 下線部(c)に関して、民本主義を説いた政治学者として最も適当なのは、ア～エのうちではどれですか。一つ記号で答えなさい。

- ア 美濃部達吉 イ 加藤高明 ウ 吉野作造 エ 犬養毅

(5) 下線部(d)に関して、「五か年計画」とよばれる計画経済を実施して共産主義化を進めたソ連の指導者はだれですか。カタカナで書きなさい。

(6) 下線部(e)よりも後の世界のできごとについて述べたア～ウを、年代の古いものから順に並ぶように記号で答えなさい。

- ア 東西ドイツの統一 イ 北大西洋条約機構(NATO)の結成 ウ ベトナム戦争の激化

(7) 次は、表を作成した後に、やすおさんが、我が国の近年の政治の特色についてまとめた文です。**Q** に当てはまる適当なことばを漢字四字で書きなさい。

公務員の数減らすなど、無駄がない効率的な行政を目指す **Q** が進められている。

4 京都府京都市に住むふみこさんは、近畿地方と中部地方について調べ、図1、図2を集めました。(1)～(5)に答えなさい。



(国土地理院平成28年発行2万5千分の1地形図「京都東南部」作成。)

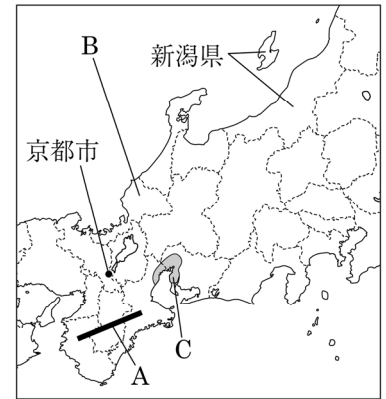


図1

図2

(1) 次は、ふみこさんが図1についてまとめた文です。**X**、**Y** に当てはまることばの組み合わせとして最も適当なのは、ア～エのうちではどれですか。一つ記号で答えなさい。

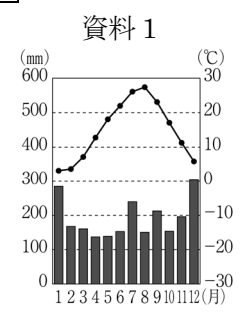
**X** が開いた浄土宗の総本山として知られる知恩院の西側には、**Y** がある。

- |                 |                |                 |                |
|-----------------|----------------|-----------------|----------------|
| ア <b>X</b> : 法然 | <b>Y</b> : 図書館 | イ <b>X</b> : 法然 | <b>Y</b> : 博物館 |
| ウ <b>X</b> : 親鸞 | <b>Y</b> : 図書館 | エ <b>X</b> : 親鸞 | <b>Y</b> : 博物館 |

(2) 図2中のAの山地を何といいますか。漢字で書きなさい。

(3) ふみこさんは、図2中のB県について、次の文章にまとめました。**P** に当てはまる適当な内容を、B県の県庁所在地の雨温図を示した資料1を参考にして、「農業」ということばを用いて書きなさい。

B県などの北陸地方では、**P** ため、農家の副業が行われてきた。この副業から地場産業や伝統産業が発達した。



(4) 図2中のCに広がる工業地帯(地域)の名称と、この工業地帯(地域)に含まれる都市の組み合わせとして最も適当なのは、ア～エのうちではどれですか。一つ記号で答えなさい。

- |              |              |
|--------------|--------------|
| ア 東海工業地域ー浜松市 | イ 東海工業地域ー豊田市 |
| ウ 中京工業地帯ー浜松市 | エ 中京工業地帯ー豊田市 |

(5) ふみこさんは、図2中の新潟県の農業をさまざまな視点から比較するために右の資料2を収集しました。資料2中のア～エは、北海道、新潟県、和歌山県、鹿児島県のいずれかです。新潟県に当てはまるのは、ア～エのうちではどれですか。一つ記号で答えなさい。

資料2 耕地面積の内訳(ha)

	田	普通畑	樹園地	牧草地
ア	33,600	61,900	12,200	2,960
イ	148,500	15,900	2,080	693
ウ	8,970	2,210	19,700	31
エ	221,500	418,000	3,050	498,100

(注) 統計年次は2023年。「樹園地」は果樹を栽培している農地。「データでみる県勢2025」から作成

