

社会(45分)

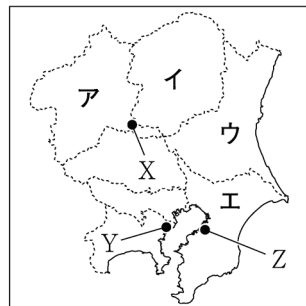
受験番号	
	(算用数字)

1

美紀さんは、家族旅行で東京都を訪れたことをきっかけに関東地方に関心を持ち、地域的特色を調べた。①～⑥に答えなさい。

- ① 右の図1は、美紀さんが作成した関東地方の略地図である。県名と県庁所在都市名が同じである県は、ア～エのうちではどれですか。一つ記号で答えなさい。
- ② 関東平野に広がる火山灰質の赤土のことを何といいますか。
- ③ 美紀さんは、関東地方の農業の特色について次のように説明した。□に当てはまることばとして最も適当なのは、ア～エのうちではどれですか。一つ記号で答えなさい。

図1

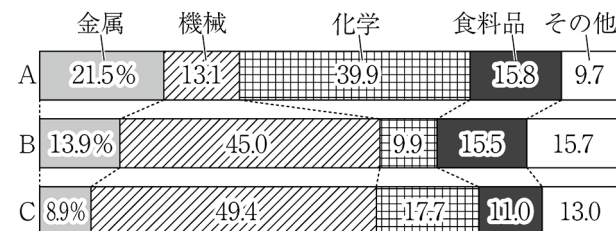


関東地方では、大消費地の東京に向けて新鮮な野菜を出荷する□がさかんである。

ア 二期作 イ 混合農業 ウ 酪農 エ 近郊農業

- ④ 美紀さんは、関東地方には複数の工業地帯・地域があることを知り、右の資料1を作成した。図1中のX～Zの都市がふくまれる工業地帯・地域にそれぞれ当てはまるグラフの組み合わせとして最も適当なのは、ア～エのうちではどれですか。一つ記号で答えなさい。

資料1 3つの工業地帯・地域の製造品出荷額割合(2017年)

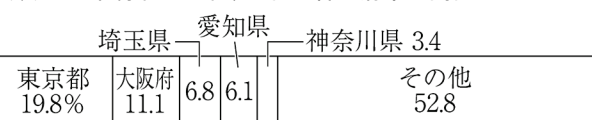


(2020/21年版「日本国勢図会」から作成)

ア X:A Y:C Z:B イ X:B Y:A Z:C
ウ X:B Y:C Z:A エ X:C Y:A Z:B

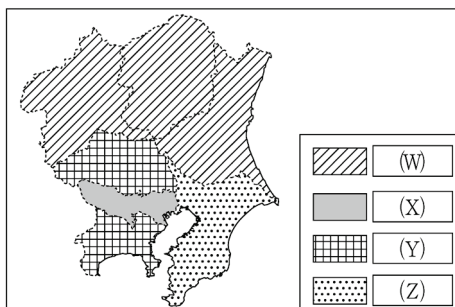
- ⑤ 美紀さんは、関東地方の工業の特色について調べ、右の資料2を作成した。資料2から分かるように、東京都に印刷業が集中している。その理由を、「政府」「企業」「情報」ということばを用いて書きなさい。

資料2 印刷業の企業数上位5都道府県の割合(2018年)



(2020年版「データでみる県勢」から作成)

図2 夜間人口と昼間人口の差(2015年)



(2020年版「データでみる県勢」から作成)

- ⑥ 美紀さんは、関東地方各都県の人口移動に着目し、右の図2を見つけた。図2中の□(W)～□(Z)には、次のア～エのいずれかの文が当てはまる。□(W)に当てはまるものは、ア～エのうちではどれですか。一つ記号で答えなさい。
- ア 夜間人口が昼間人口より少ない
イ 夜間人口が昼間人口より0～35万人多い
ウ 夜間人口が昼間人口より35～70万人多い
エ 夜間人口が昼間人口より70万人以上多い

2

純さんは、社会科の授業のまとめとして企業と労働について調べ、レポートを作成することにした。次は、純さんのレポートの構想メモの一部である。①～⑥に答えなさい。

企業と労働

○私企業と公企業

私企業は利益(利潤)の追求を最大の目的とし、代表的な形に(a)株式会社がある。公企業は□(b)企業である。企業には、(c)企業の社会的責任(CSR)を果たすことも求められる。

○企業と労働者

労働者は企業に労働力を提供する見返りとして賃金を得る。使用者である企業に対して弱い立場に置かれがちな労働者には(d)労働基本権(労働三権)が保障され、労働基準法をはじめとする(e)法律によって労働者が保護されている。

○企業と金融

企業が設備投資などを行うときに資金を得る方法として、株式や債券を発行して資金を得る直接金融や、(f)銀行から資金を借りる間接金融がある。

- ① 下線部(a)に関して、株式会社のうち、一定の条件を満たした企業の株式は、ある場所で売買されている。その売買される場所のことを何といいますか。漢字で答えなさい。
 - ② □(b)に当てはまる公企業の説明を、「地方公共団体」「利益」ということばを用いて書きなさい。
 - ③ 下線部(c)に当てはまる例として適当でないのは、ア～エのうちではどれですか。一つ記号で答えなさい。
- ア 地域のゴミ拾い活動に参加する。 イ 子どもを対象に交通安全教室を開催する。
ウ 海外に工場を建てて現地生産を行う。 エ 災害からの復興に必要な資材を提供する。
- ④ 下線部(d)のうち、労働組合が使用者と対等な立場で賃金や勤務条件などについて話し合う権利を何といいますか。漢字で答えなさい。
 - ⑤ 下線部(e)に関して、国会で法律をつくる際に、衆議院で可決された法律案が参議院で否決された場合、法律が成立するための手続きとして最も適当なのは、ア～エのうちではどれですか。一つ記号で答えなさい。
- ア 衆議院において出席議員の3分の2以上の賛成で再可決されれば、法律となる。
イ 衆議院において総議員の3分の2以上の賛成で再可決されれば、法律となる。
ウ 必ず両院協議会が開かれ、それでも意見がまとまらないときは衆議院の議決が尊重される。
エ 公聴会が開かれ、それでも意見がまとまらないときは衆議院の議決が尊重される。
- ⑥ 下線部(f)に関して述べた次のXとYの文について、内容の正誤を表したものとして最も適当なのは、ア～エのうちではどれですか。一つ記号で答えなさい。

X 銀行は、預金の利子を貸し出しの利子よりも高くすることで利益を得ている。
Y 銀行は、日本銀行から資金の貸し出しを受けたり、預金をしたりしている。

- ア X, Yのどちらも正しい。 イ Xのみ正しい。
ウ Yのみ正しい。 エ X, Yのどちらも誤っている。

受験番号	
	(算用数字)

3 社会科の授業で、班ごとにテーマを設定して主題学習を行うことになった。和也さんの班は日本の馬の歴史をテーマに選び、班員それぞれが気付いたことを出し合って調査を進めた。①～④に答えなさい。

和也さん 古墳の上や周囲に置かれた埴輪には馬の形をしたものがあり、
(a)古墳時代にはすでに馬が利用されていたと分かります。

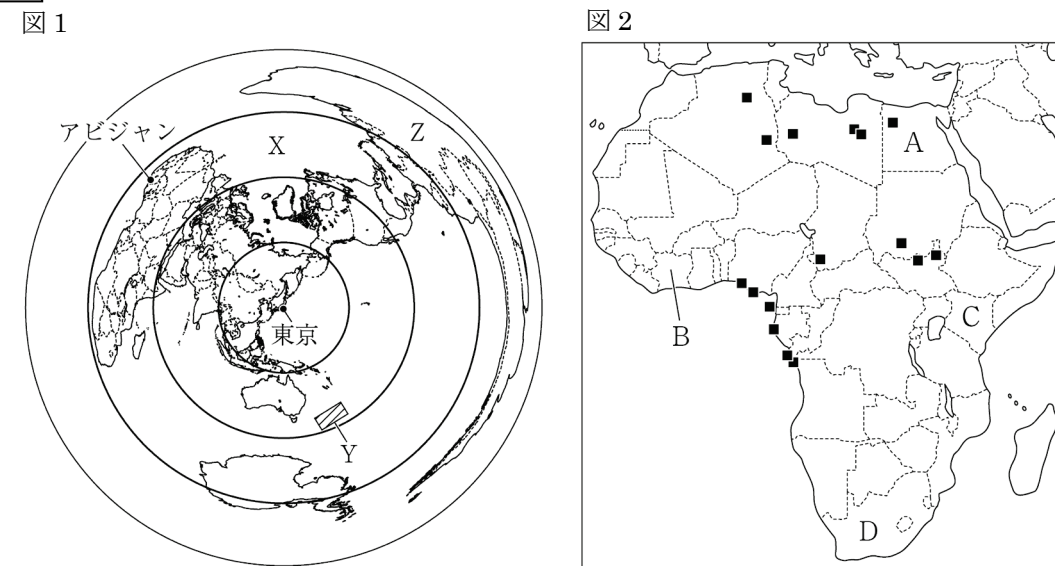
絵里さん (b)律令制のもとで、都と地方を結ぶ道路が整えられ、駅には乗り継ぎ用の馬が用意されていたそうです。

遥さん 中世になると、武士が乗馬の訓練を日々行ったほか、(c)農業にも馬が用いられるようになりました。

司さん 戦国最強の騎馬隊といわれた武田氏の軍勢は、鉄砲を効果的に用いた(d)織田信長の軍勢に破れました。

- ① 和也さんは下線部(a)について調べた。古墳時代について述べた文として最も適当なのは、ア～エのうちではどれですか。一つ記号で答えなさい。
- ア 大和政権(ヤマト王権)の勢力が、北海道から九州までを支配下に置いた。
イ 大和政権(ヤマト王権)の大王が、中国の南朝にたびたび使いを送った。
ウ 富本銭や和同開珎といった貨幣がつくられ、近畿地方で用いられるようになった。
エ 日本から朝鮮半島に行って学んだ渡来人が、さまざまな技術を日本に持ち帰った。
- ② 絵里さんは下線部(b)について調べ、次のように説明した。 に共通して当てはまることばを、漢字で書きなさい。
- 6歳以上の農民には一定の広さの を与え、収穫量の約3%にあたる稲を租として納めさせ、その農民が死ぬと を国へ返させた。このしくみを班田收授法という。
- ③ 下線部(c)について、遥さんが調べた農業に関する次のア～エのできごとを、年代の古いものから順に並ぶように記号で答えなさい。
- ア 脱穀に千歯こきが用いられるようになった。 イ 西日本で二毛作が始まった。
ウ 惣(惣村)が用水の管理をするようになった。 エ 高床倉庫がつくられ始めた。
- ④ 司さんは、下線部(d)について調べた。(1)、(2)に答えなさい。
- (1) 織田信長が安土の城下町で右の資料のような法令を出した目的を、「自由」ということばを用いて書きなさい。
- 一 この安土の町は楽市としたので、いろいろな座は廃止し、さまざまな税や労役は免除する。
- (2) 本能寺で織田信長を自害に追い込んだ人物として最も適当なのは、ア～エのうちではどれですか。一つ記号で答えなさい。
- ア 明智光秀 イ 今川義元 ウ 足利義昭 エ 石田三成

4 次の図1、図2は、世界の一部地域を表した略地図である。①～⑥に答えなさい。



- ① 図1のXの海洋名を何とといいますか。
- ② 地球一周の長さを約40000kmとすると、図1の東京からアビジャンまでのおおよその距離として最も適当なのは、ア～エのうちではどれですか。一つ記号で答えなさい。
- ア 4000km イ 9000km ウ 14000km エ 19000km
- ③ 図1のYの地域にある島国(海洋国)として最も適当なのは、ア～エのうちではどれですか。一つ記号で答えなさい。
- ア ニューゼーランド イ マダガスカル ウ アイスランド エ キューバ
- ④ 図1のZの国の生産量が世界で最も多く、Zの国ではバイオエタノール(バイオ燃料)の原料としても使われている農産物を何とといいますか。
- ⑤ 図2の■は、アフリカ大陸におけるある鉱産資源の主な産出地を示している。この鉱産資源として最も適当なのは、ア～エのうちではどれですか。一つ記号で答えなさい。
- ア 鉄鉱石 イ 原油(石油) ウ 石炭 エ 銅
- ⑥ 次の表は、図2のA～Dの国の統計を示している。Aの国に当てはまるものは、表中のア～エのうちではどれですか。一つ記号で答えなさい。

(2018年、*12016年)

	飼育頭数(千頭)		1人あたり 国内総生産(ドル)	輸出額上位2品目(%)
	牛	豚		
ア	4 517	10	2 538	石油製品 14.5, 野菜・果実 9.3
イ	19 635	568	1 710	茶 22.7, 野菜と果実 9.8*1
ウ	12 790	1 454	6 369	自動車 11.6, 白金族 8.4
エ	1 670	344	1 716	カカオ豆 27.5, カシューナッツ 9.8

受験番号	
	(算用数字)

5 中学生の孝太郎さんは、近世～近代・現代の長野県の歴史について調べ、資料を作成した。①～⑩に答えなさい。

近世の長野県

○松代藩、松本藩など多くの藩に分かれていた。(a)中山道が通っており、多くの人々が行き来するだけでなく、(b)流通もさかんになった。

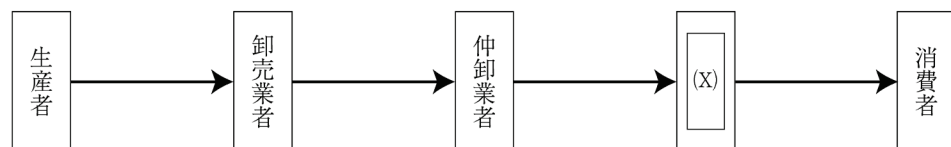
○南西部の木曾地方は、良質のヒノキの産地であったことから(c)幕府領となり、森林が厳重に管理されていた。

○北部にある(d)善光寺は、三重県の伊勢神宮などととも庶民の旅行先として多くの参拝客を集め、商業や宿泊業がさかんになった。

近代・現代の長野県に関するおもなできごと	
年	できごと
1876 年	松本市に(e)旧開智学校がつくられる
1906 年	木曾地方出身の文学者(f)島崎藤村が小説『破戒』を刊行する
1930 年	昭和恐慌で(g)が大打撃を受ける
1936 年頃	(h)満州への集団移住が行われる
	↑↓ (i)
1997 年	北陸新幹線の東京－長野間が開業する
1998 年	長野オリンピック・パラリンピックが開催される
	↑↓ (j)
2015 年	北陸新幹線の長野－金沢間が開業する

① 下線部(a)に関して、中山道をふくむ各地の街道は、庶民だけでなく大名行列もさかんに通るようになったことで、急速に整備されていった。江戸時代に大名行列がさかんに通った理由を、「江戸」「領国」ということばを用いて書きなさい。

② 下線部(b)に関して、次の図は、現代の流通の経路を表したものである。(X)に当てはまる、スーパーマーケットやコンビニエンスストアなどの店のことを何といいますか。



③ 下線部(c)に関して、孝太郎さんは幕府領について次のようにまとめた。(Y)に当てはまる場所として最も適当なのは、ア～エのうちではどれですか。一つ記号で答えなさい。

江戸幕府は長崎や日光などの重要な場所のほか、鉾山のある(Y)などを直接支配し、遠国奉行を置いた。

- ア 淡路島 イ 佐渡島 ウ 種子島 エ 対馬

④ 下線部(d)に関して、善光寺は 7 世紀半ばに現在の場所につくられたといわれている。7 世紀半ばのできごととして最も適当なのは、ア～エのうちではどれですか。一つ記号で答えなさい。

- ア 後醍醐天皇が、天皇を中心として公家を重んじる建武の新政を行った。
 イ 藤原道長が娘を次々と天皇のきさきとして、摂関政治の全盛期を築いた。
 ウ 中大兄皇子らが蘇我氏を倒し、公地公民の方針を示して大化の改新を始めた。
 エ 桓武天皇が都を平安京に移すとともに、坂上田村麻呂に蝦夷を平定させた。

⑤ 下線部(e)に関して、旧開智学校は、明治政府が定めた学制のもとで、地元の有力者が資金を出し合っつくられたものである。学制で定められた内容を、「6 歳」ということばを用いて書きなさい。

⑥ 下線部(f)に関して、島崎藤村と同時期に活躍し、『吾輩は猫である』『坊っちゃん』などの小説を著した人物はだれですか。漢字で答えなさい。

⑦ (g)には、近代において日本の最大の輸出品であった製品をつくる工業が当てはまる。この工業として最も適当なのは、ア～エのうちではどれですか。一つ記号で答えなさい。

- ア 製糸業 イ 鉄鋼業 ウ 紡績業 エ 造船業

⑧ 下線部(h)に関して、日本軍(関東軍)が満州を占領して建国した満州国の元首として迎えられた人物として最も適当なのは、ア～エのうちではどれですか。一つ記号で答えなさい。

- ア 毛沢東 イ 孫文 ウ 蔣介石 エ 溥儀

⑨ 孝太郎さんは、(i)の時期の日本の外交について調べ、次のア～エの 4 つの条約の条文を見つけた。ア～エのできごとを、年代の古いものから順に並ぶように記号で答えなさい。

<p>ア</p> <p>第三条 大韓民国政府は、…(中略)…朝鮮にある唯一の合法的な政府であることが確認される。</p>	<p>イ</p> <p>一、日本と中華人民共和国との間のこれまでの不正常な状態は、この共同声明が発出される日に終了する。</p>
--	--

<p>ウ</p> <p>第一条 日本国は、ドイツ国及びイタリア国の欧州における新秩序建設に関し、指導的地位を認めかつこれを尊重する。</p>	<p>エ</p> <p>一、日本とソビエト社会主義共和国連邦との間の戦争状態は、この宣言が効力を生ずる日に終了し、両国の間に平和及び友好善隣関係が回復される。</p>
--	---

⑩ (j)の時期のできごととして最も適当なのは、ア～エのうちではどれですか。一つ記号で答えなさい。

- ア 冷戦(冷たい戦争)の象徴であったベルリンの壁が崩壊した。
 イ ベトナム戦争にアメリカ合衆国が介入した。
 ウ バンドンでアジア・アフリカ会議が開催された。
 エ アメリカ合衆国で同時多発テロが発生した。