

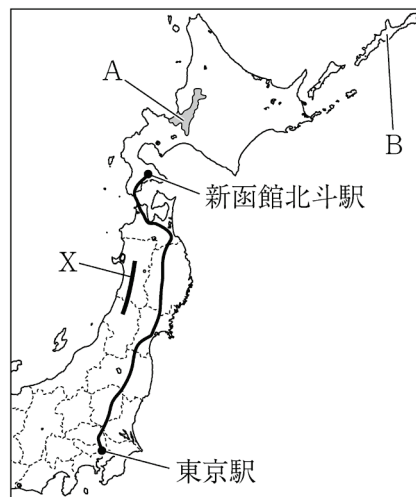
社会(45分)

受験番号	
	(算用数字)

1 東京都に暮らす慎介さんは、家族旅行で北海道を訪れたことをきっかけに、東北地方や北海道地方に関心を持ち、地域的特色を調べた。①～⑥に答えなさい。

- ① 右の図1は、慎介さんが作成した略地図である。慎介さんたちは東京駅から新函館北斗駅まで新幹線を利用した。このとき通過した県について述べたア～エを、通過した順に並ぶように記号で答えなさい。
- ア 南部鉄道の生産がさかんな都市がある県
  - イ かつて鉱毒事件が発生した足尾銅山がある県
  - ウ 東北地方で人口が最も多い都市がある県
  - エ 夏にねぶた祭が開催される都市がある県

図1



- ② 東北地方の日本海側に連なる図1中のXの山地を何といいますか。漢字で書きなさい。
- ③ 慎介さんは、図1中のAの平野について次のように説明した。[W]、[X]に当てはまることばと地図記号の組み合わせとして最も適当なのは、ア～エのうちではどれですか。一つ記号で答えなさい。

Aの[W]平野は、客土によって土壌を改良した結果、現在では、[X]の地図記号で示される土地利用が多く見られる。

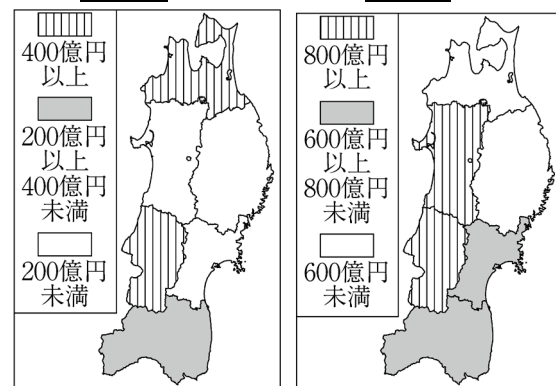
- ア [W] : 石狩 [X] : ○ イ [W] : 石狩 [X] : II  
 ウ [W] : 十勝 [X] : ○ エ [W] : 十勝 [X] : II

④ 慎介さんは、北海道は漁業生産量が日本で最も多く、ほたて貝などの栽培漁業がさかんであることを知った。栽培漁業について説明した次の文の[ ]に当てはまる適当な内容を、「放流」ということばを用いて書きなさい。

栽培漁業は、養殖業とともに近年注目されている「育てる漁業」の一つで、卵をふ化させた稚魚や稚貝をある程度育て、[ ]という漁業である。

⑤ 慎介さんは、東北地方6県の農業に着目し、右の図2、図3を見つけた。[Y]、[Z]に当てはまることばの組み合わせとして最も適当なのは、ア～エのうちではどれですか。一つ記号で答えなさい。

図2 [Y]の生産額 図3 [Z]の生産額



(2017年)図2、3は2020年版「データでみる県勢」から作成

- ア [Y] : 畜産 [Z] : 米  
 イ [Y] : 畜産 [Z] : 野菜  
 ウ [Y] : 果実 [Z] : 米  
 エ [Y] : 果実 [Z] : 野菜

⑥ 図1中のBの島は、日本固有の領土であるが、ロシア連邦に不法に占拠されている。この島の名前を漢字で書きなさい。

2 中学生の陽菜さんは、社会科の授業のまとめとして国民と社会のかかわりについて調べて、レポートを作成することにした。次は、陽菜さんのレポートの構想メモの一部である。①～⑥に答えなさい。

国民と社会とのかかわり

○国の政治とのかかわり

国民は、(a)国会で話し合う代表者を選挙によって選んでいる。また、内閣に対しては、(b)世論によって政策に影響を与えている。裁判所に対しては、最高裁判所裁判官についての(c)国民審査が行われる。

○地方自治とのかかわり

地方自治は、国の政治よりも住民が政治に関わる機会が多いことから、「民主主義の学校」といわれている。地域の重要な課題に対しては、(d)が行われることもある。

○経済活動とのかかわり

わたしたちは、(e)収入の中から必要な商品を購入し、消費して生活している。消費者は弱い立場に置かれがちであるため、(f)さまざまな法律や制度によって保護されている。

- ① 下線部(a)に関して、国会がもつ権限の一つに、衆議院による内閣不信任の決議がある。内閣不信任の決議が可決された場合、内閣が行わなければならないことを、「10日以内」ということばを用いて書きなさい。
- ② 下線部(b)に関して、世論の形成に重要な役割を果たす、テレビや新聞、ラジオなど、不特定多数の人々に情報を発信する媒体のことを何といいますか。カタカナ六字で答えなさい。
- ③ 下線部(c)に関して、国民審査と一緒に行われる選挙として適当なのは、ア～エのうちではどれですか。一つ記号で答えなさい。
- ア 衆議院議員総選挙
  - イ 都道府県知事選挙
  - ウ 参議院議員選挙
  - エ 市(区)町村長選挙
- ④ (d)に当てはまる、地域の重要な課題について、住民全体に賛否を問う制度を何といいますか。漢字で書きなさい。
- ⑤ 下線部(e)に関して、家計は収入の中から税や社会保険料を支払い、残りを消費支出に当てている。そして、余った部分は将来の支出に備えて、銀行預金や生命保険料の支払いなどに当てている。この余った部分のことを何といいますか。漢字二字で書きなさい。
- ⑥ 下線部(f)に関して述べた次のXとYの文について、内容の正誤を表したものとして最も適当なのは、ア～エのうちではどれですか。一つ記号で答えなさい。

X 小売店で購入した商品については、購入した日から8日以内であれば、クーリング・オフ制度を使って商品を返品することができる。  
 Y 製造物責任法によって、商品の欠陥によって消費者が損害を受けた場合、その損害と商品の欠陥との関係を証明できれば、補償を受けることができる。

- ア X、Yのどちらも正しい。      イ Xのみ正しい。  
 ウ Yのみ正しい。                  エ X、Yのどちらも誤っている。

受験番号	
	(算用数字)

3 社会科の授業で、班ごとにテーマを設定して主題学習を行うことになった。優さんの班は日本の建物の歴史をテーマに選び、班員それぞれが気付いたことを出し合って調査を進めた。①～④に答えなさい。

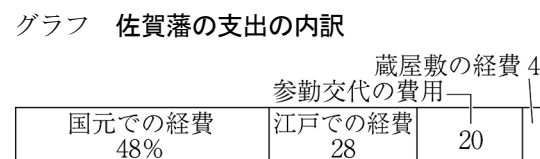
優さん 稲作が全国に広まると、稲を湿気やねずみから守るために(a)高床倉庫がつくられるようになりました。

未来さん 東大寺の敷地内にある正倉院には、(b)聖武天皇の愛用品や、遣唐使が持ち帰った品々などが納められました。

健人さん 足利義政が建てた東求堂には、(c)現代の和風建築のもととなる様式の部屋がみられます。

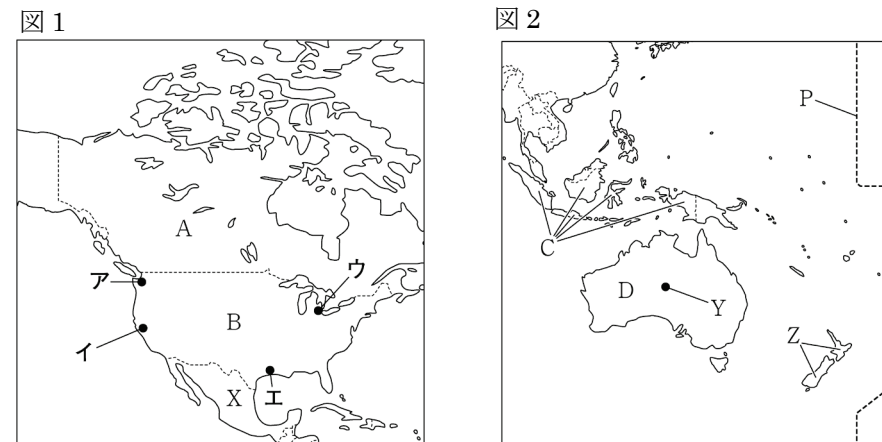
絵美さん 江戸幕府の3代将軍の(d)徳川家光は、祖父の(e)徳川家康をまつため、日光東照宮を整備しました。

- ① 優さんは、下線部(a)について調べた。高床倉庫がつくられ始めた時代の道具として最も適当なのは、ア～エのうちではどれですか。一つ記号で答えなさい。  
 ア 須恵器    イ 埴輪    ウ 富本銭    エ 銅鐸
- ② 未来さんは、下線部(b)について調べた。(1)、(2)に答えなさい。  
 (1) 聖武天皇が行ったこととして最も適当なのは、ア～エのうちではどれですか。一つ記号で答えなさい。  
 ア 公地公民の方針を示した。    イ 坂上田村麻呂に東北を平定させた。  
 ウ 奈良に東大寺を建立した。    エ 兵庫の港を整備して貿易を行った。  
 (2) 聖武天皇のころに栄えた、仏教や中国の影響を受けた、国際色豊かな文化を何といいますか。漢字で書きなさい。
- ③ 下線部(c)に見られる建築様式には、畳を敷き、床の間が設けられ、書画や生け花が室内にかざられた。このような建築様式を何といいますか。漢字で書きなさい。
- ④ 絵美さんは、下線部(d)、(e)について調べた。(1)、(2)に答えなさい。  
 (1) 徳川家康が江戸幕府を開いてから、徳川家光が亡くなるまでにおこった次のア～エのできごとを、年代の古いものから順に並ぶように記号で答えなさい。  
 ア 大阪の陣で豊臣氏を滅ぼした。    イ オランダ商館を長崎の出島に移した。  
 ウ 島原・天草一揆がおこった。    エ スペイン船の来航を禁止した。  
 (2) 徳川家光は、武家諸法度に参勤交代を追加した。参勤交代が義務づけられたことは、全国の藩にどのような影響をあたえたか、右のグラフを参考に、「財政」ということばを用いて書きなさい。



(「日本史料集」から作成)

4 次の図1、図2は、世界の一部地域を表した略地図である。①～⑥に答えなさい。なお、図1と図2の縮尺は異なっている。



① 次の文にあてはまる都市として最も適当なのは、図1のア～エのうちではどれですか。一つ記号で答えなさい。

この都市は、流れ作業による自動車の大量生産方式を取り入れたことで、20世紀初めには自動車製造の中心地となった。しかし、20世紀後半には、工業が停滞した。

- ② 図1のXの国が公用語としている言語として最も適当なのは、ア～エのうちではどれですか。一つ記号で答えなさい。  
 ア フランス語    イ スペイン語    ウ 中国語    エ ポルトガル語
- ③ 経度180度の経線にほぼ沿って引かれている、図2のPの線を何といいますか。漢字で書きなさい。
- ④ 世界を5つの気候帯に区分したとき、図2のYの都市が属する気候帯を何といいますか。漢字で書きなさい。
- ⑤ 図2のZの国の特色について述べた文として最も適当なのは、ア～エのうちではどれですか。一つ記号で答えなさい。  
 ア アルプス・ヒマラヤ造山帯に属する。    イ アボリジニという先住民がいる。  
 ウ ASEANに加盟している。    エ 世界有数の羊毛の輸出国である。
- ⑥ 右の表は、図1、2のA～Dの国の統計を表したものである。表から読み取れることとして最も適当なのは、ア～エのうちではどれですか。一つ記号で答えなさい。  
 ア 人口密度が最も高いのはBの国である。  
 イ 人口密度が最も低いのはAの国である。  
 ウ 1人当たり国内総生産が最も多いのはDの国である。  
 エ 1人当たり国内総生産が最も少ないのはCの国である。

表 (2018年)

	面積 (万km <sup>2</sup> )	人口 (万人)	国内総生産 (億ドル)
A	999	3 708	17 126
B	983	32 710	205 802
C	191	26 767	10 422
D	769	2 490	14 539

(2020/21年版「世界国勢図会」などから作成)

受験番号	
	(算用数字)

5 中学生の明日香さんは、アメリカ合衆国の歴史について調べ、資料を作成した。①～⑨に答えなさい。

アメリカ合衆国の歴史	
年	主なできごと
1776	アメリカ独立宣言が出される
1848	アメリカ合衆国の領土が西海岸に達する
	↕⑥
1869	アメリカ大陸横断鉄道が完成する
1886	自由の女神像がつくられる
	↕⑦
1921	ワシントン会議が開かれる
	↕⑧
1945	国際連合が発足し、 <input type="text" value="(X)"/> に本部が置かれる
	↕⑨
2001	<input type="text" value="(X)"/> の高層ビルなどで、同時多発テロが発生する

主なアメリカ大統領	
<p><b>A ケネディ</b> 革命によって(a)社会主義政権となったキューバに、ソビエト連邦が軍事基地を建設して(b)核兵器を運び込んだことから、海上封鎖を行った。このできごとはキューバ危機とよばれたが、外交交渉によって核戦争は回避された。</p>	<p><b>B ウィルソン</b> 「十四か条の平和原則」を発表し、軍備の縮小や(c)民族自決の原則、国際機関の設立などを国際社会に提案した。この提案をもとにして国際連盟が発足したが、アメリカ合衆国自体は議会の反対で加盟できなかった。</p>
<p><b>C リンカン(リンカーン)</b> 綿花の栽培がさかんで、自由貿易を求めて(d)奴隷制の継続を願う南部と、工業が発展して保護貿易を求めて奴隷制に反対する北部の対立から(e)南北戦争が発生すると、北軍を率いて勝利に導いた。そのさなかに奴隷解放宣言を出した。</p>	<p><b>D フランクリン・ルーズベルト</b> 世界恐慌によって経済が低迷する中で、(f)ニューディール政策を掲げて経済の復興に努めた。日本の東南アジア進出に対して石油の禁輸措置に踏み切り、太平洋戦争が始まると日本を追い込んだが、(g)終戦の直前に亡くなった。</p>

① ⑥～⑨の時期に大統領になった人物のカードの組み合わせとして最も適当なのは、ア～エのうちではどれですか。一つ記号で答えなさい。  
 ア ⑥：B ⑦：D ⑧：A ⑨：C    イ ⑥：B ⑦：C ⑧：A ⑨：D  
 ウ ⑥：C ⑦：B ⑧：D ⑨：A    エ ⑥：D ⑦：A ⑧：C ⑨：B

② に共通して当てはまる都市名を書きなさい。  
 ③ 下線部(a)に関して述べた次のXとYの文について、内容の正誤を表したものとして最も適当なのは、ア～エのうちではどれですか。一つ記号で答えなさい。

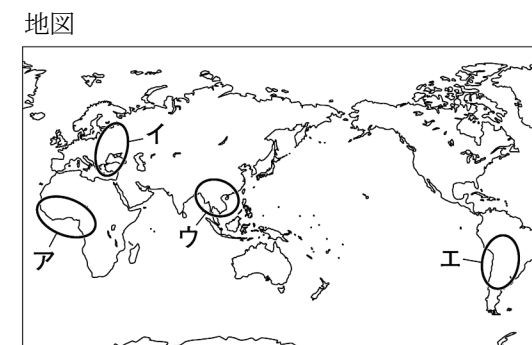
X 社会主義は、産業革命が進み資本主義が確立したことを批判する主張で、マルクスらによって唱えられた。  
 Y 史上初の社会主義政権はロシアで生まれ、ロシア革命を主導したムソソリーニが中心となった。

ア X, Yのどちらも正しい。    イ Xのみ正しい。  
 ウ Yのみ正しい。    エ X, Yのどちらも誤っている。  
 ④ 下線部(b)に関して、日本では核兵器に対して非核三原則を国の方針として掲げている。非核三原則について述べた次の文中のに当てはまる内容を書きなさい。

非核三原則とは、「核兵器を」という原則のことである。

⑤ 下線部(c)に関して、民族自決の原則が各地に影響をあたえる中で、ガンディー(ガンジー)が非暴力・不服従の抵抗運動を起こした国はどこですか。国名を書きなさい。

⑥ 下線部(d)に関して、このころ奴隷の供給地となっていた地域として最も適当なのは、右の地図中のア～エのうちではどれですか。一つ記号で答えなさい。



⑦ 下線部(e)に関して、南北戦争がおこったころの日本のできごととして最も適当なのは、次のア～エのうちではどれですか。一つ記号で答えなさい。

ア 尊王攘夷運動がさかんになった。  
 イ 民撰議院設立の建白書が出された。  
 ウ 列強とともにシベリアに出兵した。  
 エ 樺太・千島交換条約が結ばれた。  
 ⑧ 下線部(f)に関して、ニューディール政策とはどのような政策か、「公共事業」「労働者」ということばを用いて書きなさい。

⑨ 下線部(g)に関して、終戦後のできごとについて述べた次のア～エを、年代の古いものから順に並べたとき、三番目となるのはどれですか。一つ記号で答えなさい。  
 ア 朝鮮戦争が始まった。    イ 自衛隊が設置された。  
 ウ 日米安全保障条約が結ばれた。    エ 日本国憲法が公布された。